

Pažljivo pročitaj i zapamti!

- Za svoje kretanje pješak koristi nogostup ili drugu površinu namijenjenu za kretanje pješaka.



- Ukoliko se pješak kreće po kolniku na cesti izvan naselja na kojoj ne postoji nogostup ili staza za pješake, pješak se kreće kolnikom bliže lijevom rubu kolnika u smjeru kretanja (u susret vozilima).



- Kada se kolnikom kreće više pješaka, dužni su se kretati jedan za drugim, osim osobe koja vodi dijete mlađe od sedam godina, koristeći najviše 1 m kolnika, računajući od ruba kolnika.




- Pješak je dužan preko kolnika prelaziti pažljivo i najkraćim putem i na mjestu na kome postoji obilježeni pješački prijelaz.



- Na pješačkom prijelazu na kome je promet pješaka reguliran svjetlosnim prometnim znacima, pješak je dužan postupati u skladu s tim znakovima.
- Ukoliko prometom upravlja policijski službenik, pješak mora postupiti po znakovima koje daje policijski službenik.

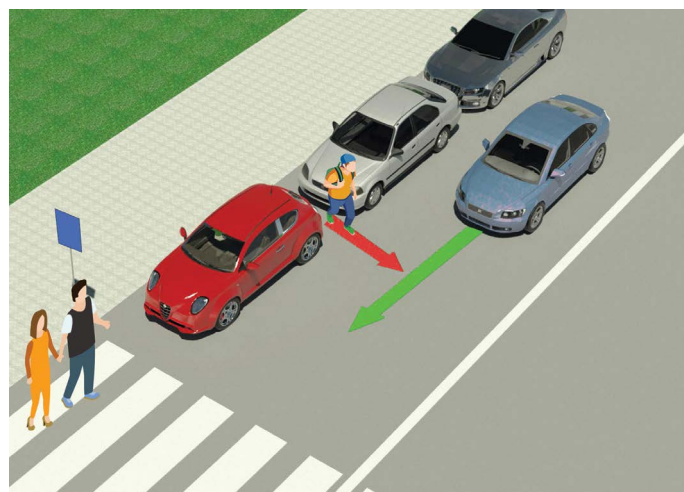
ZABRANJENO JE:



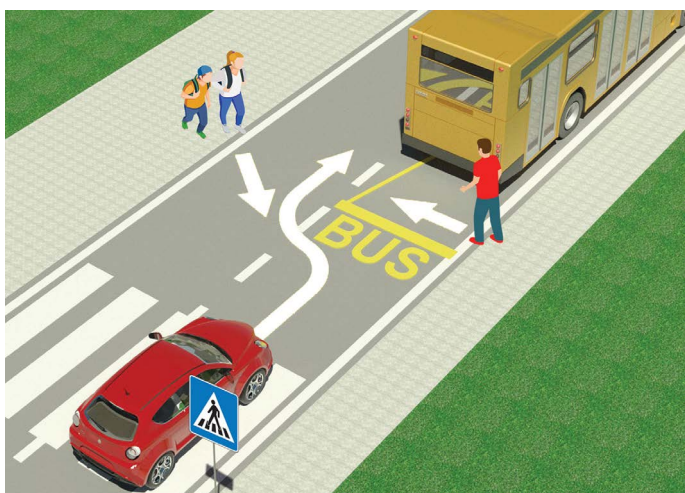
- kretanje pješaka, bicikla, mopeda, tricikla i četverocikla:- autocestom i - brzom cestom.



- djetetu mlađem od 12 godina sjediti na prednjem sjedalu, neovisno o tome što je stavilo sigurnosni pojas.



- i veoma opasno prelaziti preko kolnika pojavljivanjem između parkiranih vozila i izvan obilježenog pješačkog prijelaza.



- i veoma opasno prelaziti preko kolnika ispred ili iza autobusa koji se zaustavio na stajalištu radi izlaska i ulaska putnika.



- prilikom prelaska kolnika da pješak koristi mobitel ili ima slušalice na ušima.




- prelaziti preko kolnika kada je na semaforu uključeno crveno svjetlo ili ako policijski službenik upravlja prometom, prelaziti preko kolnika kada on svojim položajem tijela, rukama ili na drugi način to zabranjuje.

ISPIT


– Pažljivo pročitaj upute –

Ispit se ispunjava tako što prvo pogledaš sliku, pročitaš pitanje, a zatim i oba ponuđena odgovora i tek tada stavljaš znak u kvadratić gdje smatraš da je odgovor točan.




1. U situaciji na slici dvojica se biciklista kreću po putu:
a) propisno ②
b) nepropisno

2. Vozač mopeda ili motocikla:
a) dužan je na glavi tijekom vožnje nositi kacigu ②
b) nije dužan na glavi tijekom vožnje nositi kacigu



3. Vozač bicikla, u situaciji na slici, kreće se:
a) propisno ②
b) nepropisno

4. U situaciji na istoj slici pješaci se kreću po:
a) pločniku ②
b) biciklističkoj stazi



5. Pješak koji gura bicikl kreće se putem propisno ako se kreće:
A) uz lijevi rub kolnika ususret vozilima ②
B) uz desni rub kolnika, kao na slici

6. Pješak u situaciji na istoj slici kreće se uz desni rub kolnika:
a) nepropisno ②
b) propisno




7. Kada je na semaforu za pješake uključeno svjetlo kao u situaciji na slici, prelazak pješačkog prijelaza je:
a) zabranjen ②
b) dopušten

8. Kod semafora za pješake jedno je polje zelene, a drugo:
a) crvene boje ②
b) žute boje



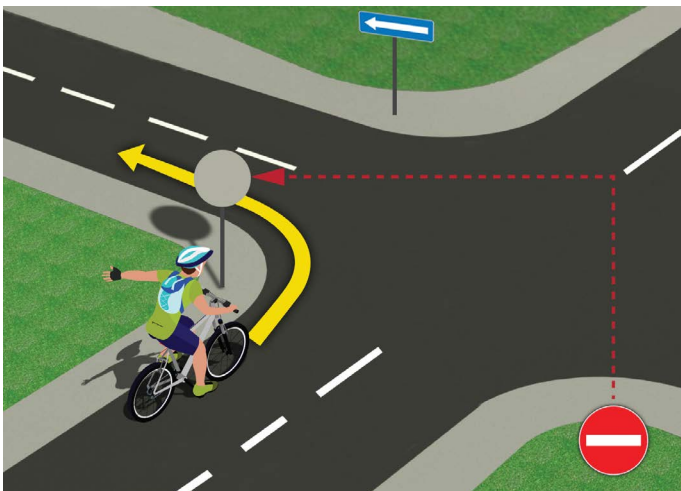
9. U situaciji na slici prednost prolaza kroz raskrižje ima vozač bicikla pod brojem:
- a) 1 ③
- b) 2 ③

10. U situaciji na slici promet je reguliran:
- a) pravilom prometa koje regulira prednost prolaza ②
- b) prometnim znakovima ②



11. Pješaci u situaciji na slici:
- a) imaju prednost prolaza u odnosu na plavi putnički automobil ②
- b) dužni su propustiti plavi putnički automobil ②

12. Vozač putničkog automobila u situaciji na istoj slici kreće se:
- a) cestom koja se križa s cestom s prednošću prolaza ③
- b) cestom s prednošću prolaza ③



13. Vozač bicikla, u situaciji na slici, skretanje ulijevo vrši:
- a) propisno ②
- b) nepropisno ②

14. Na javnoj cesti upravljanje biciklom smije vršiti dijete s navršenih:
- a) 9 godina ②
- b) 12 godina ②

(Polazni broj)

(Naziv-razred/škola/ekipa)

30 - Negativnih = UKUPNO

Bodova Bodova

NAŠI PRIJATELJI!

