

Пажљиво прочитај и запамти!

- За своје кретање пешак користи тротоар или другу површину намењену за кретање пешака.



- Уколико се пешак креће по коловозу на путу ван насеља на коме не постоји тротоар или стаза за пешаке, пешак се креће коловозом ближе левој ивици коловоза у смеру кретања (у сусрет возилима)



- Када се коловозом креће више пешака, дужни су да се крећу један за другим, осим лица које води дете млађе од 7 година старости, користећи највише 1м коловоза, рачунајући од ивице коловоза.


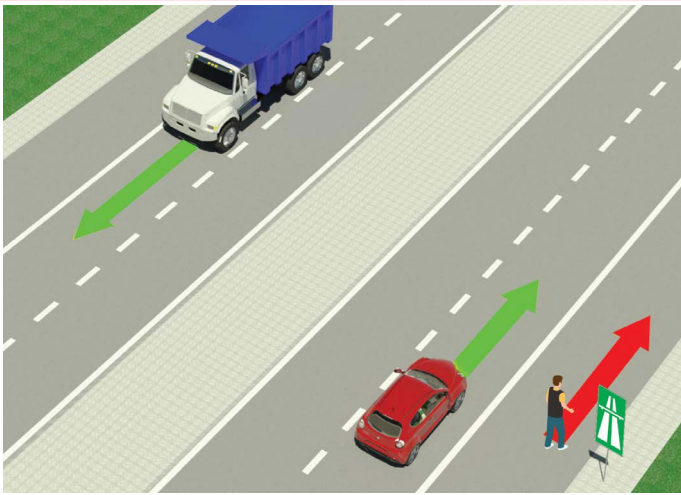


- Пешак је дужан да преко коловоза прелази пажљиво и најкраћим путем и на месту на коме постоји обележени пешачки прелаз.




- На пешачком прелазу на коме је саобраћај пешака регулисан светлосним саобраћајним знацима, пешак је дужан да поступи у складу са тим знацима
- Уколико саобраћај регулише полицијски службеник, онда пешак мора поступити по знацима које даје полицијски службеник.

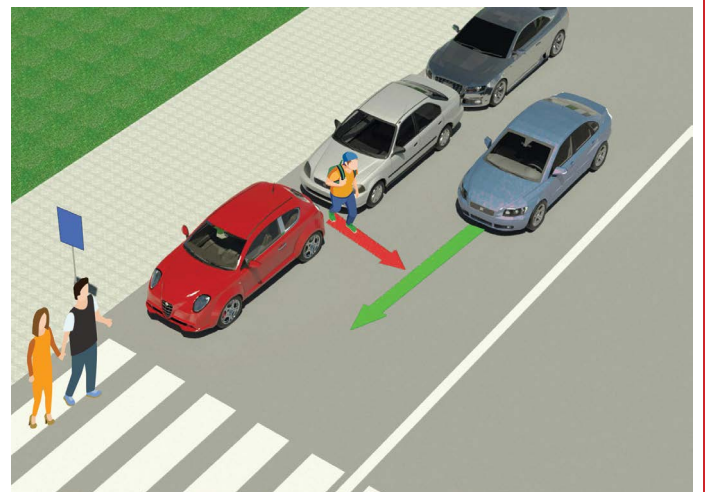
ЗАБРАЊЕНО ЈЕ:



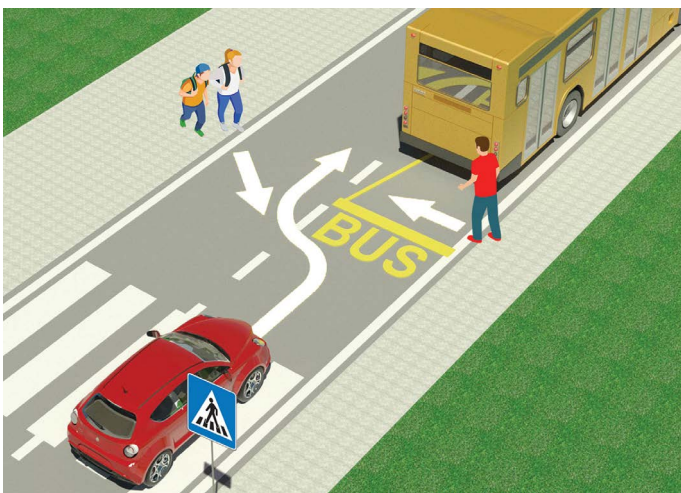
- Кретање пешака, бицикла, мопеда, трицикла и четвороцикла: аутопутем и мотопутем.



- Да дете млађе од 12 година седи на предњем седишту, без обзира што је ставило сигурносни појас



- Веома је опасно прелазити преко коловоза појављивањем између паркираних возила и ван обележеног пешачког прелаза.



- Веома је опасно прелазити преко коловоза испред или иза аутобуса који се зауставио на стајалишту ради уласка и изласка путника.



Забрањено је прелазити преко коловоза када је на семафору укључено црвено светло



Забрањено је да приликом преласка преко коловоза пешак употребљава мобилни телефон, нити да користи слушалице на ушима




Забрањено је прелазити преко коловоза ако полицијски службеник регулише саобраћај и када он својим положајем тела, рукама или на други начин то забрањује

ТЕСТ

- пажљиво прочитај упутство -

Тест се ради тако што прво погледаш слику, прочиташ питање, а затим и оба понуђена одговора и тек тада стављаш знак у квадратић где сматраш да је одговор тачан.



1. У ситуацији на слици двојица бициклиста се по путу крећу:

- А) Прописно 2
- Б) Неписно

2. Возач мопеда или мотоцикла:

- А) је дужан да на глави током војње носи кацигу 2
- Б) није дужан да на глави током војње носи кацигу




3. Возач бицикла, у ситуацији на слици, креће се:

- А) прописно 2
- Б) неписно

4. У ситуацији на истој слици пешаци се крећу по:

- А) Тротоару 2
- Б) бициклистичкој стази



5. Пешак који гура бицикл креће се путем прописно ако се креће:

- А) уз леву ивицу коловоза у сусрет возилима 2
- Б) уз десну ивицу коловоза, као на слици

6. Пешак у ситуацији на истој слици креће се уз десну ивицу коловоза:

- А) неписно 2
- Б) прописно



7. Када је на семафору за пешаке упаљено светло као у ситуацији на слици, прелазак пешачког прелаза је:

- а) забрањен 2
- б) дозвољен

8. Код семафора за пешаке једно поље је зелене, а друго:

- А) црвене боје 2
- Б) жуте боје



9. У ситуацији на слици првенство проласка кроз раскрсницу има возач бицикле под бројем:

- A) 1 3
 B) 2

10. У ситуацији на слици саобраћај је регулисан:

- A) правилном саобраћаја које регулише првенство пролаза 2
 B) саобраћајним знаковима

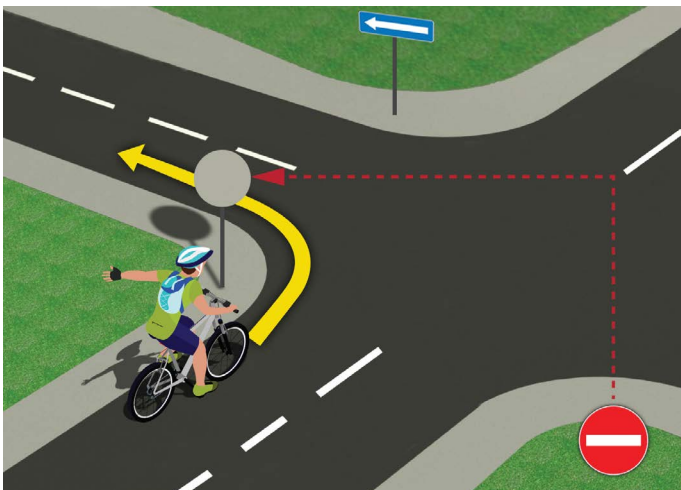


11. Пешаци у ситуацији на слици:

- a) имају првенство пролаза у односу на плави путнички аутомобил 2
 б) дужни су да пропусте плави путнички аутомобил

12. Возач путничког аутомобила у ситуацији на истој слици креће се:

- a) путем који се укршта са путем са првенством пролаза 3
 б) путем са првенством пролаза



13. Возач бицикла, у ситуацији на слици, скретање улево врши:

- A) прописно 2
 B) непрописно

14. На јавном путу управљање бициклом сме да врши дете са навршених:

- A) 9 година 2
 B) 12 година

(Стартни број)

(Назив-разред/школа/екипа)

Негативних = УКУПНО
 Поена Поена

НАШИ ПРИЈАТЕЉИ!

