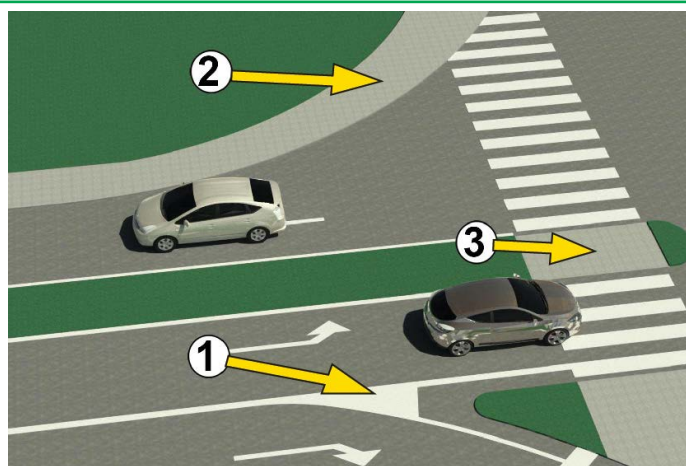




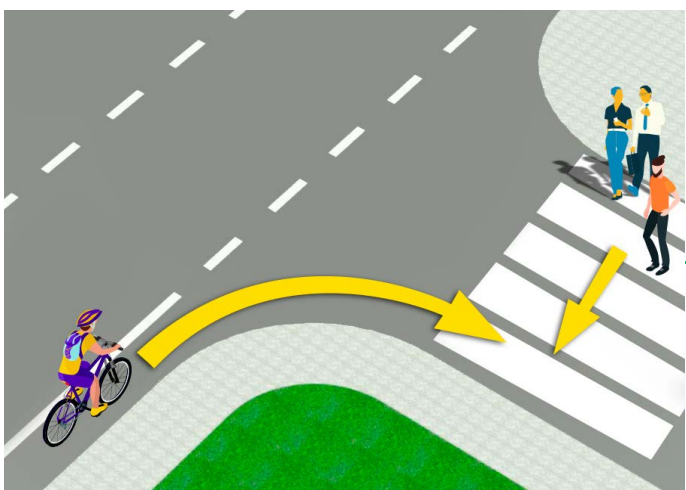
1. U situaciji na slici, vozač putničkoga automobila obilazi autobus:
- a) propisno .....  **3**
- b) nepropisno .....
- c) na dijelu kolnika gdje je obilaženje zabranjeno prometnim pravilima .....

2. Najveća dozvoljena brzina u naseljenom mjestu, ako nije drugačije određeno prometnim znakom, je:
- a) 30 km/sat .....
- b) 50 km/sat .....  **3**
- c) 70 km/sat .....



3. Na slici polje obilježeno brojem 1 je:
- a) pješački otok .....
- b) površina na kojoj je zabranjen promet i na kojoj nije dopušteno zaustavljanje i parkiranje vozila .....  **3**
- c) površinu na kojoj je zabranjen promet, a na kojoj je dopušteno zaustavljanje i parkiranje vozila .....

4. Na slici pješački je otok obilježen brojem:
- a) 1 .....  **3**
- b) 2 .....
- c) 3 .....

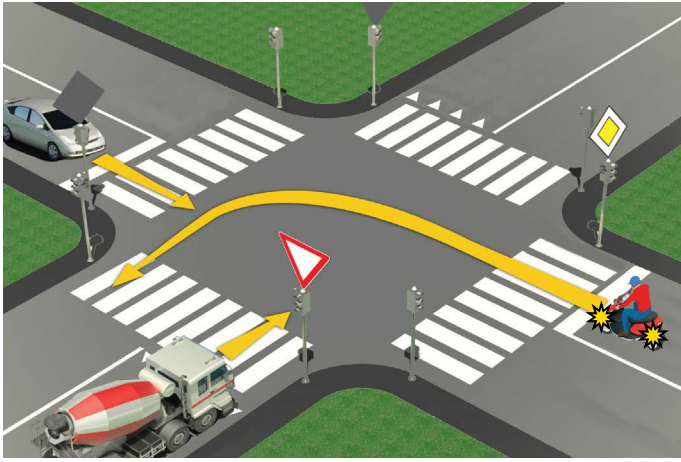


5. Vozač bicikla u situaciji na slici:
- a) dužan je usporiti i propustiti samo pješaka koji je već skoro prešao ulicu .....  **3**
- b) dužan je propusti sve pješake na pješačkom prijelazu .....
- c) ima prednost prolaza u odnosu na pješake .....

6. Vozač bicikla tijekom skretanja u situaciji na slici:
- a) dužan je odručiti desnu ruku i obavijesti sudionike u prometu o svojoj namjeri .....  **3**
- b) nije dužan odručiti ruku tijekom skretanja udesno .....
- c) dužan je odručiti samo lijevu ruku tijekom skretanja ulijevo .....


7. Izuzetno u pješačkoj zoni, zoni usporenog prometa, zoni "30", zoni škole i nekategoriziranoj cesti, biciklom može upravljati i dijete s navršenih:
- a) 9 godina .....
- b) 8 godina .....  **3**
- c) 7 godina .....

8. Prolaženje sudionika u prometu pokraj drugog sudionika u prometu koji mu dolazi ususret je:
- a) mimoilaženje .....
- b) obilaženje .....  **3**
- c) propuštanje .....



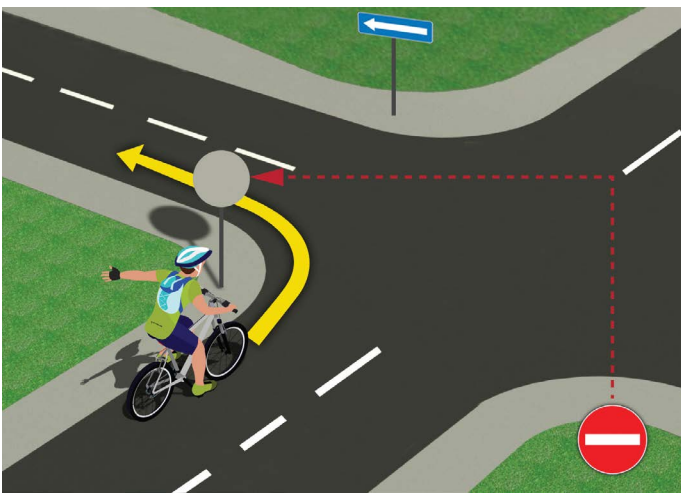
9. U situaciji na slici, redoslijed prolaska kroz raskrižje je:
- a) teretno vozilo, putnički automobil, motocikl .....
  - b) putnički automobil, motocikl, teretno vozilo .....
  - c) motocikl, putnički automobil, teretno vozilo .....  ③

10. U situaciji na danj slici, prednost prolaza reguliran je:
- a) svjetlosnim prometnim znakovima .....
  - b) pravilima prometa .....  ③
  - c) prometnim znakovima i pravilima prometa .....



11. Prednost prolaza u situaciji na slici ima:
- a) biciklist koji je bliži raskrižju .....
  - b) biciklist u plavoj (1) majici .....  ③
  - c) biciklist u žutoj (2) majici .....

12. Biciklist koji na danj slici skretanje vrši ulijevo, to čini:
- a) propisno, prestrojen uz razdjelnu crtu .....
  - b) nepropisno, jer treba biti što bliži desnom rubu kolnika .....  ③
  - c) nepropisno, na mjestu gdje skretanje ulijevo nije dopušteno .....




13. Vozač bicikla, u situaciji na slici, skretanje ulijevo vrši:
- a) nepropisno .....
  - b) propisno .....  ③
  - c) propisno, samo ako skretanje vrši krećući se krajnjom desnom trakom .....

14. Kada se prestrojava iz desne u lijevu prometnu traku, vozač bicikla prethodno mora da:
- a) pogleda preko lijevog ramena, potom odruči lijevu ruku i tek tada vrši prestrojavanje .....
  - b) samo pogleda preko lijevog ramena .....  ③
  - c) samo odruči ruku .....



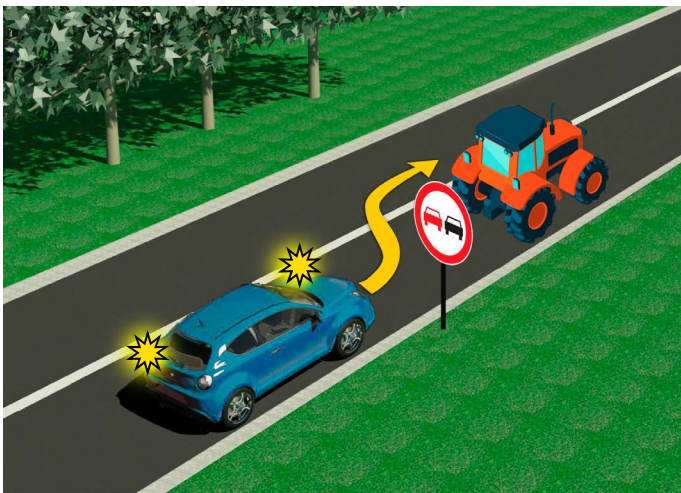
15. U situaciji na slici, vozač motocikla vrši skretanje ulijevo i tom prilikom:
- a) dužan je propustiti oba vozača bicikla .....
  - b) dužan je propustiti samo vozača bicikla koji mu dolazi s desne strane .....  ③
  - c) ima prednost prolaza u odnosu na oba vozača bicikla .....

16. U danj situaciji prednost prolaska na raskrižju regulirano je:
- a) prometnim znakovima .....
  - b) semaforima .....  ③
  - c) pravilima prometa .....



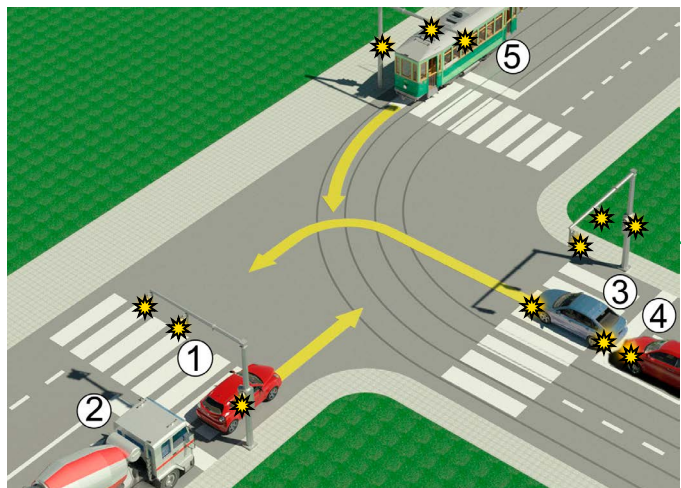
17. Putničko vozilo, u situaciji na slici, skretanje udesno vrši:
- A) propisno .....
  - B) propisno kada propusti motocikl .....  3
  - C) nepropisno .....

18. U situaciji na slici, vozač motocikla propisno skreće udesno:
- A) ukoliko skretanje udesno izvrši krećući se uz razdjelnu crtu, odnosno lijevom rubom trake u kojoj se nalazi .....
  - B) ukoliko se kreće što bliže uz desni rub kolnika .....  3
  - C) nije određeno pravilima prometa .....



19. Vozaču putničkog automobila, preticanje traktora, u situaciji na slici je:
- A) dopušteno .....
  - B) zabranjeno, samo prometnim znakom .....  3
  - C) zabranjeno prometnim znakom i oznakama na cesti .....

20. Na cesti koju vidimo na slici, najveća dozvoljena brzina putničkog vozila je:
- A) 60 km/sat .....
  - B) 80 km/sat .....  3
  - C) 100 km/sat .....



21. Vozači putničkog automobila 1 i teretnog vozila 2 u situaciji na slici:
- A) Imaju prednost prolaza u odnosu na sva vozila na raskrižju .....
  - B) Dužni su propustiti samo šinsko vozilo 5 (vozilo na tračnicama; vlak, tramvaj) .....  4
  - C) Dužni su propustiti sva vozila na raskrižju (3, 4, 5) .....

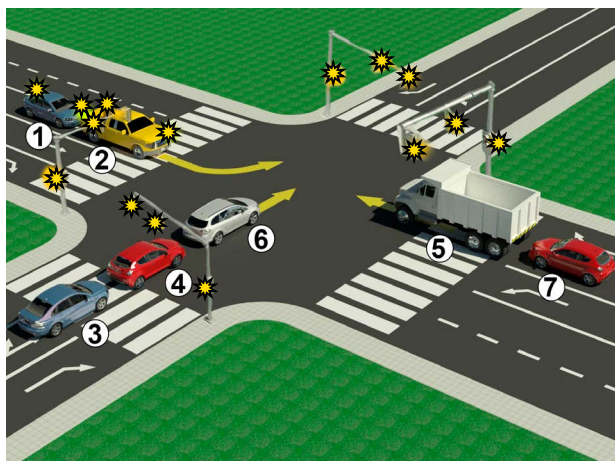
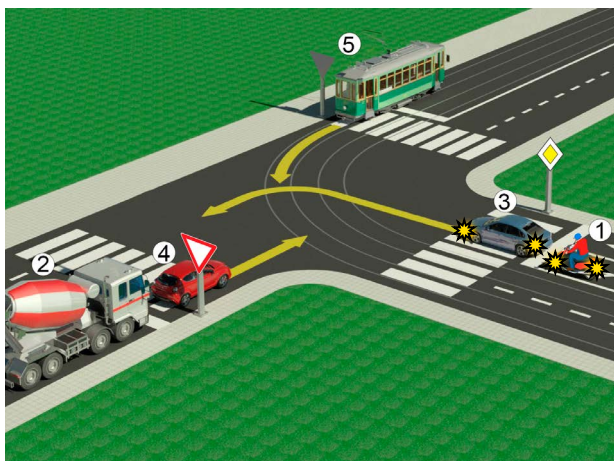
22. U situaciji na istoj slici prednost prolaza kroz raskrižje regulirano je:
- A) svjetlosnim prometnim znakovima .....
  - B) prometnim znakovima .....  3
  - C) pravilima prometa .....



23. Prema položaju tijela i ruku policijskog službenika u situaciji na slici, zabranjen je prolaz vozilima koja mu dolaze:
- A) s lijeve strane .....
  - B) s bočnih strana .....  4
  - C) iz pravca u kome su okrenuta leđa odnosno prsa policijskog službenika .....

24. Raspored svjetala na semaforu, odozgo na dolje je:
- A) žuto, zeleno, crveno .....
  - B) crveno, žuto, zeleno .....  4
  - C) zeleno, žuto, crveno .....

25.-26. U polja ispod slike upiši brojeve koji se nalaze pokraj vozila, po redoslijedu kako prolaze raskrižje



**5**

**5**

A	Б	Ц
A	Б	Ц
A	Б	Ц
A	Б	Ц
A	Б	Ц

27. Prometni je znak "križanje sa sporednom cestom pod pravim kutom" znak označen slovom:

A .....    **3**  
 B .....     
 C .....

28. Prometni je znak „obvezan smjer“ znak označen slovom:

A .....    **3**  
 B .....     
 C .....

29. Prometni je znak "prijelaz ceste prijeko željezničke pruge s branicima ili polubranicima" znak označen slovom:

A .....    **3**  
 B .....     
 C .....

30. Prometni je znak "zabrana parkiranja u neparne dane" znak označen slovom:

A .....    **3**  
 B .....     
 C .....

31. Prometni je znak "zona usporenog prometa" znak označen slovom:

A .....    **3**  
 B .....     
 C .....

**NAŠI PRIJATELJI!**



Република Србија  
МИНИСТАРСТВО ПРОСВЕТЕ, НАУКЕ  
И ТЕХНОЛОШКОГ РАЗВОЈА



Република Србија  
МИНИСТАРСТВО УНУТРАШЊИХ ПОСЛОВА



\_\_\_\_\_ (Polazni broj)  
 \_\_\_\_\_ (Naziv-razred/škola/ekipa)  
 100-    **UKUPNO**     
 Bodova Bodova