



Pažljivo pročitaj i zapamti!

Za svoje kretanje pješak koristi nogostup ili drugu površinu namijenjenu za kretanje pješaka.



Ako se pješak kreće kolnikom na cesti izvan naselja na kojoj nema nogostupa ili pješačke staze, kreće se kolnikom bliže lijevom rubu kolnika u smjeru kretanja (u susret vozilima).



Kad se kolnikom kreće više pješaka, dužni su se kretati jedan za drugim, osim osobe koja vodi dijete mlađe od 7 godina, koristeći se najviše 1 m kolnika, računajući od ruba kolnika.




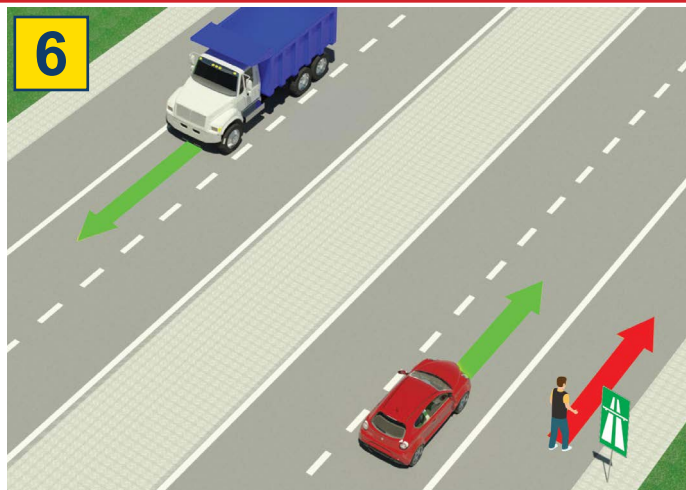
Pješaci su dužni kolnik prelaziti oprezno i najkraćim putem i na mjestu gdje je obilježen pješački prijelaz.



Na pješačkom prijelazu na kojem je promet pješaka reguliran svjetlosnim prometnim znakovima, pješak je dužan postupati u skladu s tim znakovima.

Ako promet regulira policijski službenik, tada se pješak mora pridržavati znakova koje daje policijski službenik.

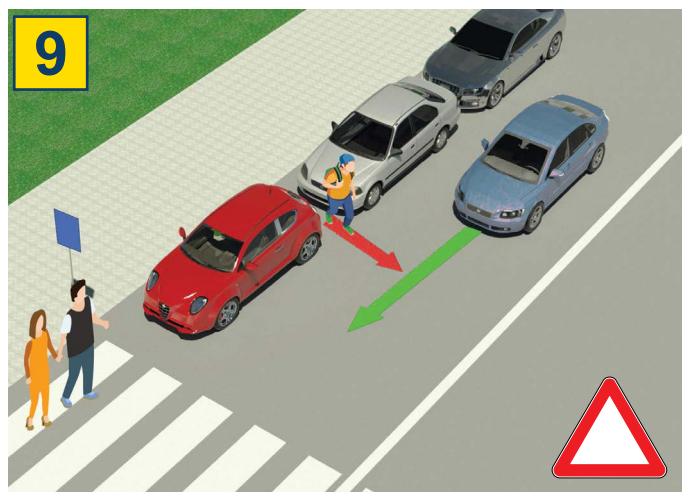
ZABRANJENO JE:



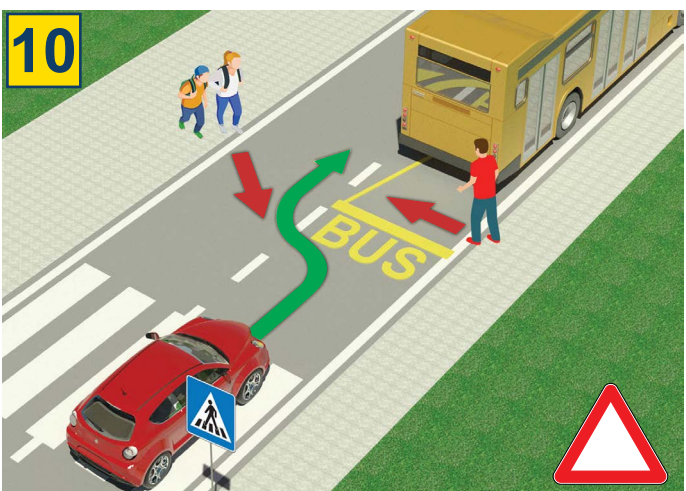
Kretanje pješaka, bicikala, mopeda, tricikla i četverocikla: na autocestama i cestama namijenjenim isključivo za promet vozila-brzim cestama.



Da dijete mlađe od 12 godina sjedi na prednjem sjedalu, bez obzira da li je vezano sigurnosnim pojasom.



Vrlo je opasno prelaziti cestu pojavljujući se između parkiranih vozila i izvan obilježenog pješačkog prijelaza.



Vrlo je opasno prelaziti cestu ispred ili iza autobusa koji je stao na autobusnom stajalištu za ulazak i izlazak putnika.

11



Zabranjeno je prelaziti cestu kada je na semaforu crveno svjetlo

12



Pješacima je zabranjeno koristiti mobitele dok prelaze cestu, niti da koristi slušalice na ušima

13

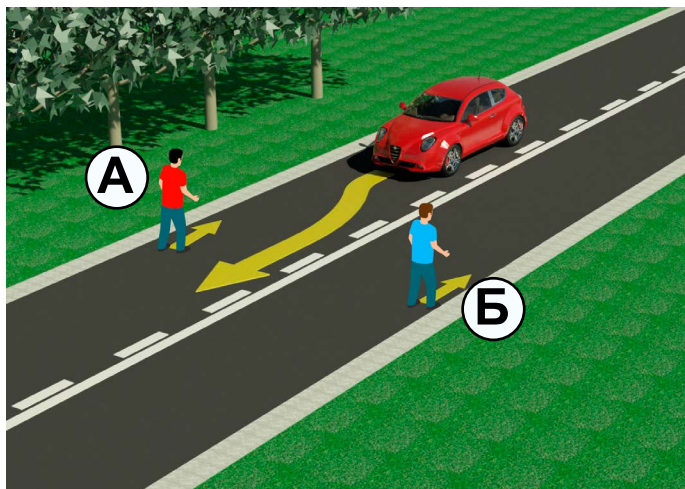


Zabranjeno je prelaziti kolnik ako policijski službenik regulira promet i kada on svojim položajem tijela, rukama ili na drugi način to zabranjuje.

TEST

- Pozorno pročitaj upute -

Test se radi tako što prvo pogledaš sliku, pročitaš pitanje, a zatim i oba ponuđena odgovora, pa tek onda u kućicu za koju smatraš da je odgovor točan staviš znak .



1. U situaciji na slici propisno se kreće pješak označen slovom:

- a) A ②
b) B

2. Na dijelu ceste u situaciji na slici kretanje pješaka po kolniku je:

- a) propisno, ako se pravilno kreće ②
b) zabranjeno

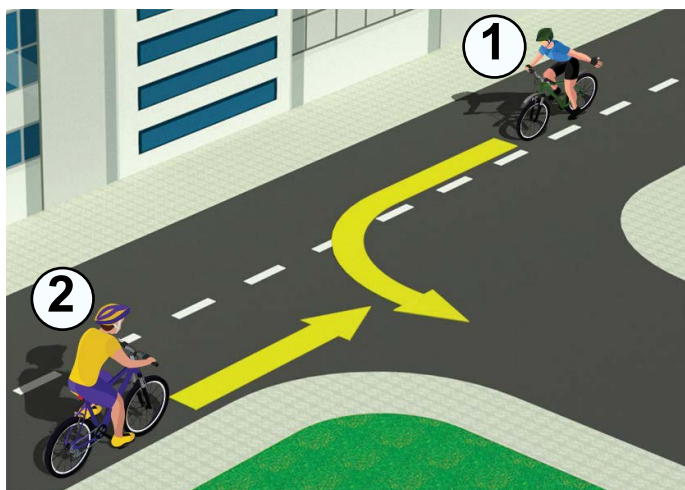


3. Vozač bicikla, u situaciji na slici, kreće se:

- a) propisno ②
b) nepropisno

4. U situaciji na istoj slici pješaci se kreću po:

- a) biciklističkoj stazi ②
b) nogostupu



5. Prvenstvo prolaza u situaciji na slici ima:

- a) biciklist u plavoj (1) majici ②
b) biciklist u žutoj (2) majici

6. Biciklist (1) koji skreće lijevo na danoj slici čini to:

- a) propisno, prestrojen duž razdjelne crte ③
b) nepropisno, jer treba biti što bliže desnom rubu kolnika



7. Kada je na semaforu za pješake upaljeno svjetlo kao u situaciji na slici, prelazak preko pješačkog prijelaza je:

- a) zabranjeno ②
b) dopušteno

8. Na semaforima za pješake jedno polje je crveno, a drugo:

- a) zelene boje ②
b) žute boja



9. Pri približavanju obilježenom pješačkom prijelazu pješak:
- a) dužan je pogledati lijevo i desno i uvjeriti se da može sigurno prijeći cestu ②
 - b) nije dužan provjeravati da li ima vozila u prometu ②

10. Prilikom prelaska kolnika pješak:
- a) može koristiti mobilni telefon ②
 - b) ne smije koristiti mobilni telefon ②



11. U situaciji na slici, prednost prolaska kroz raskrižje ima vozač bicikla pod brojem:
- a) 1 ③
 - b) 2 ③

12. U situaciji na slici promet je reguliran:
- a) prometnim znakovima ②
 - b) prometnim pravilom koje uređuje prednost prolaska ②



13. Vozač bicikla, u situaciji na slici, skreće ulijevo:
- a) propisno ②
 - b) nepropisno ②

14. Na javnoj cesti biciklom smije upravljati dijete koje je navršilo:
- a) 12 godina ②
 - b) 9 godina ②

NAŠI PRIJATELJI!

(Polazni broj)

(Naziv-razred/škola/ekipa)

30 - =

Negativnih UKUPNO

Bodova Bodova

