

Пажљиво прочитај и запамти!

За своје кретање пешак користи тротоар или другу површину намењену за кретање пешака.



Уколико се пешак креће по коловозу на путу ван насеља на коме не постоји тротоар или стаза за пешаке, пешак се креће коловозом ближе левој ивици коловоза у смеру кретања (у сусрет возилима)

Када се коловозом креће више пешака, дужни су да се крећу један за другим, осим лица које води дете млађе од 7 година старости, користећи највише 1м коловоза, рачунајући од ивице коловоза.

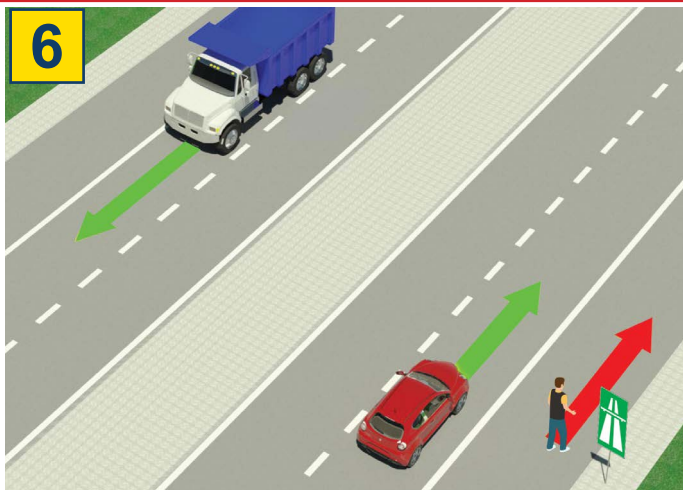


Пешак је дужан да преко коловоза прелази пажљиво и најкраћим путем и на месту на коме постоји обележени пешачки прелаз.

На пешачком прелазу на коме је саобраћај пешака регулисан светлосним саобраћајним знацима, пешак је дужан да поступи у складу са тим знацима.

Уколико саобраћај регулише полицијски службеник, онда пешак мора поступити по знацима које даје полицијски службеник.

ЗАБРАЊЕНО ЈЕ:



Кретање пешака, бицкла, мопеда, трицикла и четвороцикла: аутопутем и мотопутем.



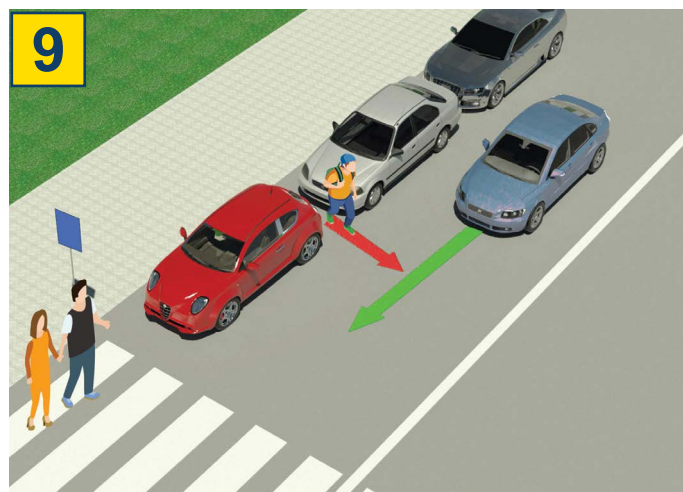
аутопут



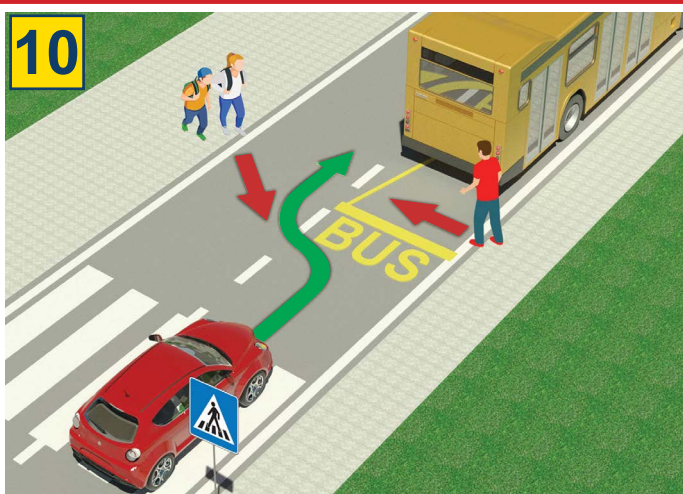
мотопут



Да дете млађе од 12 година седи на предњем седишту, без обзира што је ставило сигурносни појас



Веома је опасно прелазити преко коловоза појављивањем између паркираних возила и ван обележеног пешачког прелаза.



Веома је опасно прелазити преко коловоза испред или иза аутобуса који се зауставио на стајалишту ради уласка и изласка путника.



Забрањено је прелазити преко коловоза када је на семафору укључено црвено светло



Забрањено је да приликом преласка преко коловоза пешак употребљава мобилни телефон, нити да користи слушалице на ушима

13

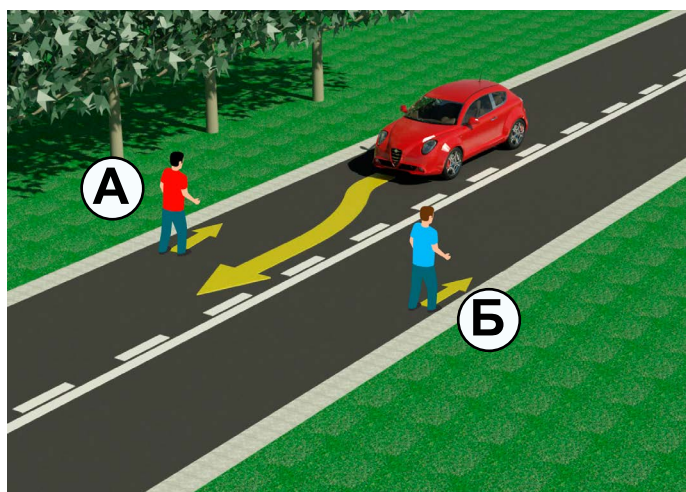


Забрањено је прелазити преко коловоза ако полицијски службеник регулише саобраћај и када он својим положајем тела, рукама или на други начин то забрањује

ТЕСТ

- пажљиво прочитај упутство -

Тест се ради тако што прво погледаш слику, прочиташ питање, а затим и оба понуђена одговора и тек тада стављаш знак **X** у квадратић где сматраш да је одговор тачан.



1. У ситуацији на слици прописно се креће пешак обележен словом:

- а) А ②
б) Б

2. На делу пута у ситуацији на слици кретање пешака коловозом је:

- а) дозвољено, уколико се креће прописно
б) забрањено ②

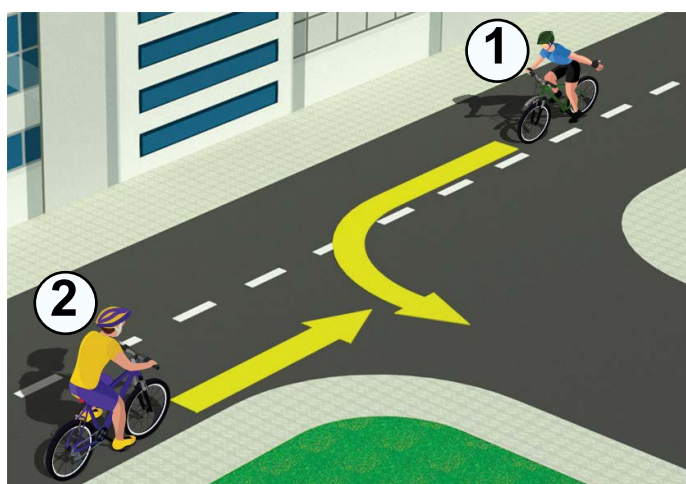


3. Возач бицикла, у ситуацији на слици, креће се:

- а) прописно ②
б) непрописно

4. У ситуацији на истој слици пешаци се крећу по:

- а) бициклическој стази ②
б) тротоару



5. Првенство пролаза у ситуацији на слици има:

- а) бициклиста у плавој (1) мајици ②
б) бициклиста у жутој (2) мајици

6. Бициклиста (1) који на датој слици скретање врши улево, то чини:

- а) прописно, престојећи уз разделну линију ③
б) непрописно, јер треба да је што ближи десној ивици коловоза



7. Када је на семафору за пешаке упаљено светло као у ситуацији на слици, прелазак пешачког прелаза је:

- а) забрањен ②
б) дозвољен

8. Код семафора за пешаке једно поље је црвене, а друго:

- а) зелене боје ②
б) жуте боје



9. Када прилази обележеном пешачком прелазу, пешак:

- а) је дужан да погледа лево и десно и увери се да може безбедно да пређе преко коловоза 2
- б) није дужан да погледа да ли има возила у саобраћају

10. Приликом преласка преко коловоза, пешак:

- а) сме да употребљава мобилни телефон 2
- б) не сме да употребљава мобилни телефон




11. У ситуацији на слици првенство проласка кроз раскрсницу има возач бицикле под бројем:

- а) 1 3
- б) 2

12. У ситуацији на слици саобраћај је регулисан:

- а) саобраћајним знаковима 2
- б) правилом саобраћаја које регулише првенство пролаза



13. Возач бицикла, у ситуацији на слици, скретање улево врши:

- а) прописно 2
- б) непрописно

14. На јавном путу управљање бициклом сме да врши дете са навршених:

- а) 12 година 2
- б) 9 година

НАШИ ПРИЈАТЕЉИ!

(Стартни број)

(Назив-разред/школа/екипа)

30 - =

Негативних Поена УКУПНО Поена

