


1. U situaciji na slici nepropisno se kreće:

- a) vozač bicikla (1)
- b) pješak koji gura kolica (2) 3
- c) vozač lakog električnog vozila (3)

2. Površina na kojoj se nalazi pješak koji gura kolica (2) u situaciji na slici je:

- a) pješačka staza
- b) nogostup 3
- c) biciklistička staza

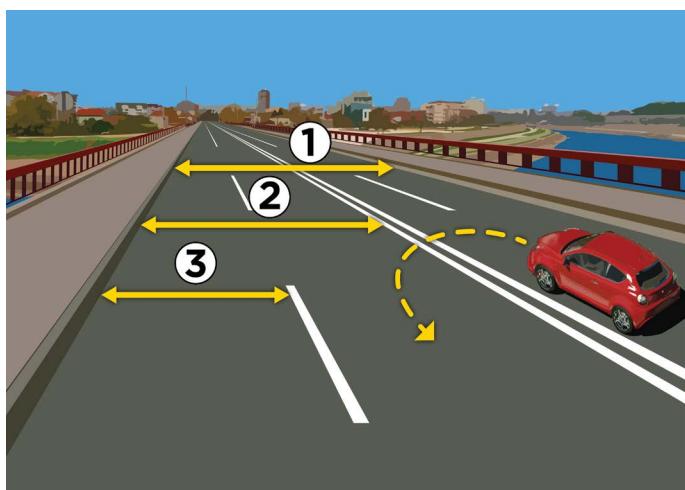


3. Prednost prolaza u situaciji na slici ima:

- a) biciklista koji je bliže raskrižju
- b) biciklist u žutoj (1) majici 3
- c) biciklist u plavoj (2) majici

4. Biciklist koji na danoj slici skreće ulijevo to čini:

- a) nepropisno, na mjestu gdje nije dozvoljeno skretanje ulijevo
- b) nepropisno, jer treba biti što bliže desnom rubu kolnika .. 3
- c) propisno, prestrojen duž razdjelne crte



5. Kolovozna traka je na slici označena brojem:

- a) 1
- b) 2 3
- c) 3

6. Na dionici ceste koju vidimo na slici, polukružno okretanje:

- a) nije dozvoljeno
- b) dozvoljeno je samo ako nema vozila koja dolaze iz suprotnog smjera 3
- c) je dozvoljeno

7. Pješak koji se kreće kolnikom izvan naselja i gura bicikl, dužan je kretati se:

- a) uz desni rub kolnika, u smjeru kretanja vozila
- b) uz lijevi rub kolnika, u susret vozilima 3
- c) sredinom kolovozne trake

8. Na mopedu, motociklu, triciklu i četverociklu ne smije se prevoziti dijete mlađe od:

- a) 9 godina
- b) 12 godina 3
- c) 14 godina



9. U situaciji na slici vozač osobnog automobila obilazi autobus:
- a) ispravno
 - b) nepravilno 3
 - c) na dijelu ceste gdje je prometnim pravilima zabranjeno obilaženje

10. Najveća dopuštena brzina u naseljenom mjestu, ako prometnim znakom nije drukčije određeno, iznosi:
- a) 30 km/h
 - b) 50 km/h 3
 - c) 70 km/h



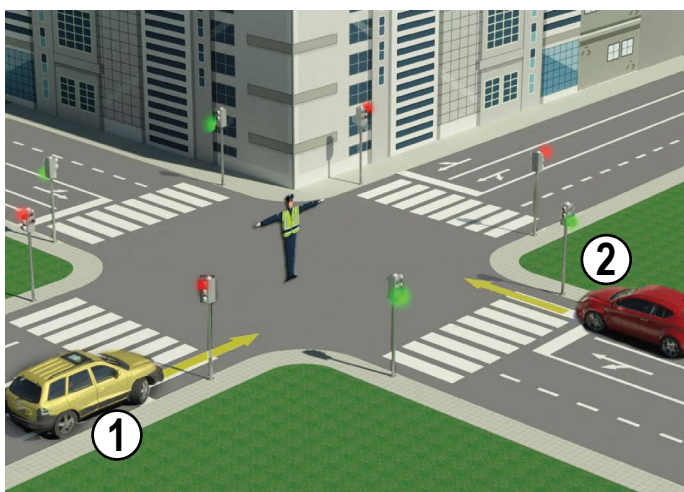
11. Vozač motocikla, u situaciji na slici, skreće ulijevo:
- a) dužan je propustiti i teretno i putničko vozilo
 - b) dužan je propustiti samo putničko vozilo 3
 - c) ima prednost prolaska kroz raskrižje

12. U situaciji na istoj slici vozač kamiona je dužan postupiti prema:
- a) svjetlosnom prometnom znaku
 - b) prometnom znaku 3
 - c) prometnim pravilima



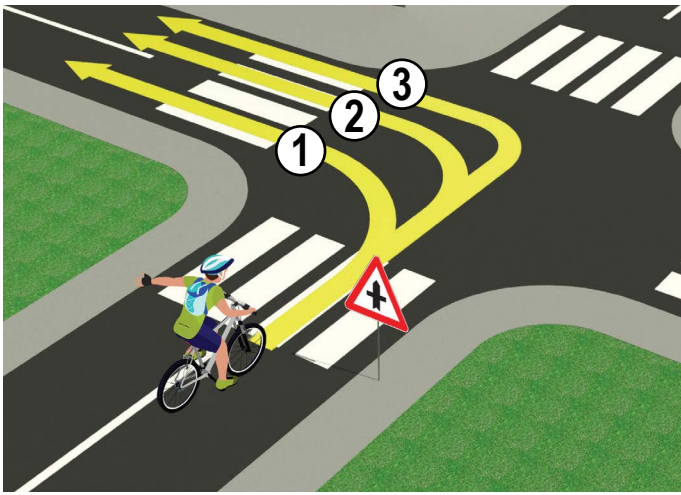
13. U situaciji na slici, crveni osobni automobil (1):
- a) dužan je propustiti i pješaka i motociklistu
 - b) dužan je propustiti samo pješaka 3
 - c) ima prednost u odnosu na pješake i motocikliste

14. Vozač mopeda kreće se kolnikom, u situaciji na slici, propisno ako se kreće:
- a) uz desni rub kolnika
 - b) lijevom stranom prometne trake, uz razdjelnju crtu 3
 - c) sredinom kolovoza



15. U situaciji na slici prednost prolaza ima:
- a) žuti osobni automobil (1)
 - b) crveni osobni automobil (2) 3
 - c) oba vozila

16. U određenoj situaciji vozači su dužni postupiti prema:
- a) prometnim pravilima
 - b) znakovima koje daje policijski službenik 3
 - c) semaforu

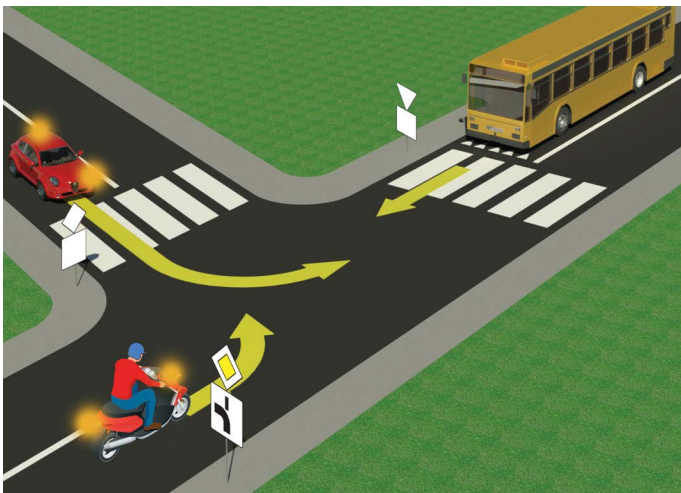


17. Vozač bicikla pravilno skreće putanjom:

- a) 1
- b) 2 4
- c) 3

18. U situaciji na slici vozač bicikla se kreće cestom koja na raskrižju:

- a) križa se sa sporednom cestom
- b) križa se sa cestom iste važnosti 3
- c) spaja se sa sporednom cestom pod pravim kutom s desne strane

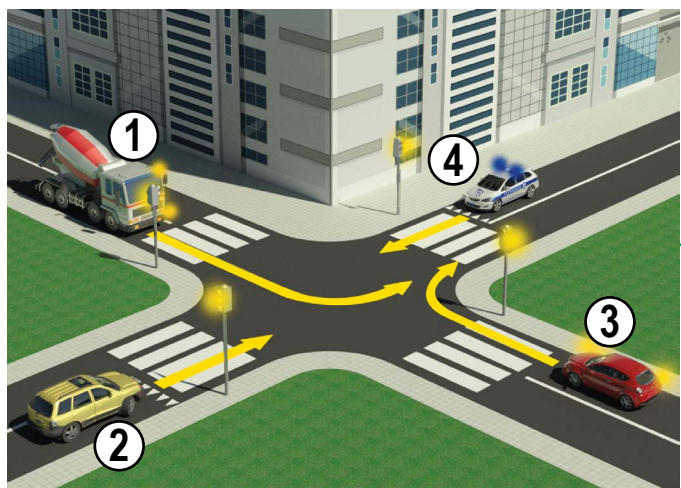


19. Za vozača motocikla, u situaciji na slici, skretanje ulijevo je:

- a) zabranjeno prometnim znakom
- b) dozvoljeno, ali prvo mora propustiti autobus 3
- c) je dozvoljen i ima prednost prolaska u odnosu na autobus

20. Dopunska tabla ispod prometnih znakova u situaciji na istoj slici znači da je:

- a) povezivanje glavne i sporedne ceste
- b) raskrižje glavne i sporedne ceste pod pravim kutom 3
- c) davanje puta s prvenstvom prolaza



21. Redoslijed prolaska kroz raskrižje, u situaciji na slici je:

- a) 4, 3, 2, 1
- b) 3, 2, 4, 1 4
- c) 4, 2, 3, 1

22. Žuto-narančasta rotacija je postavljena na:

- a) vozila pod pratnjom
- b) vatrogasna vozila 3
- c) vozila za pomoć na cesti



23. Desna ruka podignuta okomito s dlanom otvorene šake usmjerenom ulijevo - znači:

- a) dopušten prolaz vozilima koja dolaze sa strane
- b) zabrana prolaza za sve vozače, osim za one vozače čija se vozila, kada policijski službenik podigne ruku, ne mogu sigurno zaustaviti, a za pješake zabranu prelaska kolnika. 4
- c) obavezno zaustavljanje samo za vozače koji dolaze frontalno

24. Raspored svjetala na semaforu, za pješake, odozgo prema dolje je:

- a) zelena, crvena
- b) crvena, zelena 3
- c) nema pravila

