



**Pažljivo pročitaj i zapamti!**

Za svoje kretanje pješak koristi nogostup ili drugu površinu namijenjenu za kretanje pješaka.



Ako se pješak kreće kolnikom na cesti izvan naselja na kojoj nema nogostupa ili pješačke staze, kreće se kolnikom bliže lijevom rubu kolnika u smjeru kretanja (u susret vozilima).



Kad se kolnikom kreće više pješaka, dužni su se kretati jedan za drugim, osim osobe koja vodi dijete mlađe od 7 godina, koristeći se najviše 1 m kolnika, računajući od ruba kolnika.




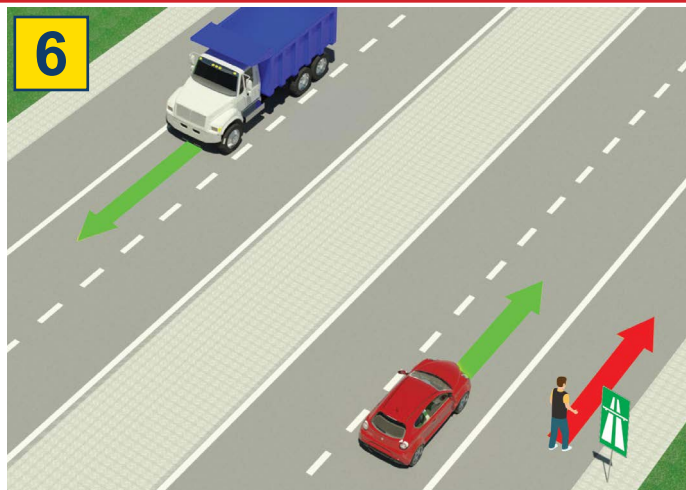
Pješaci su dužni kolnik prelaziti oprezno i najkraćim putem i na mjestu gdje je obilježen pješački prijelaz.



Na pješačkom prijelazu na kojem je promet pješaka reguliran svjetlosnim prometnim znakovima, pješak je dužan postupati u skladu s tim znakovima.

Ako promet regulira policijski službenik, tada se pješak mora pridržavati znakova koje daje policijski službenik.

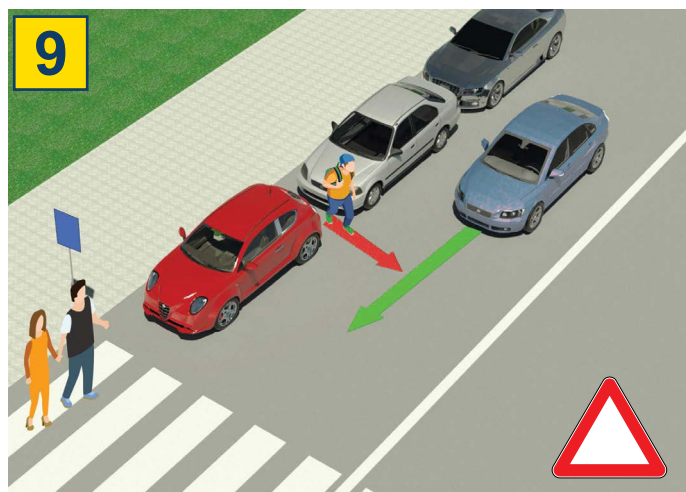
## ZABRANJENO JE:



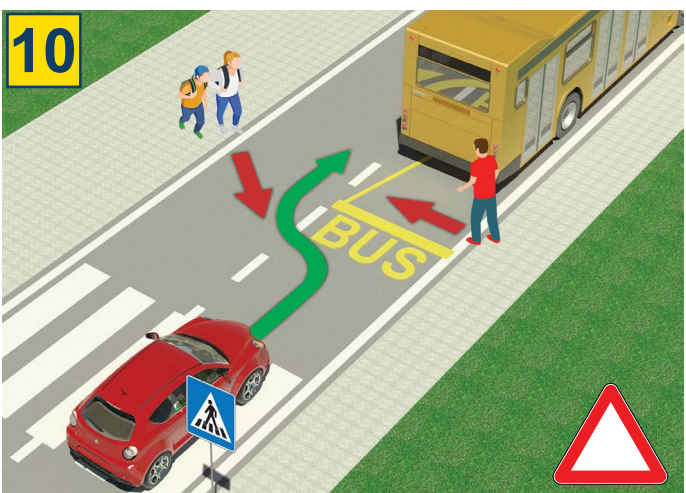
Kretanje pješaka, bicikala, mopeda, tricikla i četverocikla: na autocestama i cestama namijenjenim isključivo za promet vozila-brzim cestama.



Da dijete mlađe od 12 godina sjedi na prednjem sjedalu, bez obzira da li je vezano sigurnosnim pojasom.



Vrlo je opasno prelaziti cestu pojavljujući se između parkiranih vozila i izvan obilježenog pješačkog prijelaza.



Vrlo je opasno prelaziti cestu ispred ili iza autobusa koji je stao na autobusnom stajalištu za ulazak i izlazak putnika.

11



Zabranjeno je prelaziti cestu kada je na semaforu crveno svjetlo

12



Pješacima je zabranjeno koristiti mobitele dok prelaze cestu, niti da koristi slušalice na ušima

13




Zabranjeno je prelaziti kolnik ako policijski službenik regulira promet i kada on svojim položajem tijela, rukama ili na drugi način to zabranjuje.

## TEST

- Pozorno pročitaj upute -

Test se radi tako što prvo pogledaš sliku, pročitaš pitanje, a zatim i oba ponuđena odgovora, pa tek onda u kućicu za koju smatraš da je odgovor točan staviš znak  .



1. U situaciji na slici dvojica biciklista po cesti kreću se:

- a) propisno .....  
b) nepropisno. ....

2

2. Vozač mopeda ili motocikla:

- a) dužan je na glavi tijekom vožnje nositi kacigu .....  
b) nije dužan na glavi tijekom vožnje nositi kacigu. ....

2



3. Vozač lakog električnog vozila, u situaciji na slici, kreće se:

- a) propisno .....  
b) nepropisno. ....

2

4. U situaciji na istoj slici pješaci se kreću po:

- a) biciklističkoj stazi .....  
b) pločniku. ....

2



5. U situaciji na slici prvenstvo prolaza kroz raskršnicu ima vozač bicikla pod brojem:

- a) 1 .....  
b) 2. ....

3

6. U situaciji na slici, promet je uređen:

- a) oznakama na putu .....  
b) pravilom prometa koje uređuje prvenstvo prolaza. ....

2



7. Kad policijski službenik uređuje promet na raskrižju, vozači i pješaci moraju postupiti po:


- a) prometnom znaku .....  
b) znacima koje daje policijski službenik. ....

2

8. Horizontalno odručena ruka s dlanom otvorene šake usmjerena prema određenom vozilu znači da:

- a) su svi vozači koji nailaze na raskrižje obvezni zaustaviti se.....  
b) je vozač u čijem smjeru se daje taj znak obvezan zaustaviti vozilo. ....

2

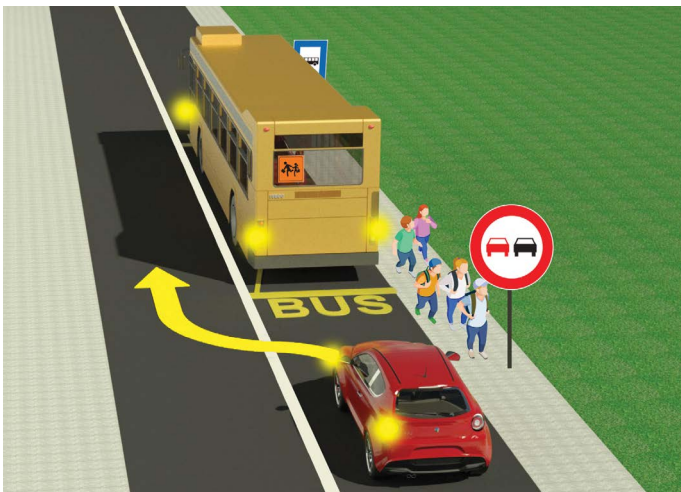


9. Vozač bicikla, u situaciji na slici, skretanje ulijevo obavlja:

- a) propisno .....  ③  
 b) nepropisno. ....

10. Na javnom putu biciklom smije upravljati dijete s navršenih:

- a) 9 godina .....  ②  
 b) 12 godina. ....




11. Djeca su izašla iz autobusa i žureći u školu:

- a) smiju pretrčavati preko kolnika ispred ili iza autobusa koji stoji na stanici .....  ②  
 b) ne smiju prelaziti preko kolnika u toj situaciji jer je opasno. ....

12. Vozaču putničkog automobila u situaciji na istoj slici obilaženje autobusa je:

- a) zabranjeno .....  ②  
 b) dozvoljeno. ....



13. Kad prilazi obilježenom pješačkom prijelazu, pješak (1):

- a) je dužan pogledati lijevo i desno te se uvjeriti da može sigurno prijeći preko kolnika .....  ②  
 b) nije dužan pogledati ima li vozila u prometu. ....

14. U situaciji na slici, pješak (2) u plavoj majici:

- a) kreće se nepropisno jer je dužan kretati se pločnikom .....   
 b) kreće se propisno lijevom rubom kolnika u susret vozilima. ....  ②

**NAŠI PRIJATELJI!**

(Polazni broj)

(Naziv-razred/škola/ekipa)

30 -  =

Negativnih **UKUPNO**  
 Bodova Bodova

