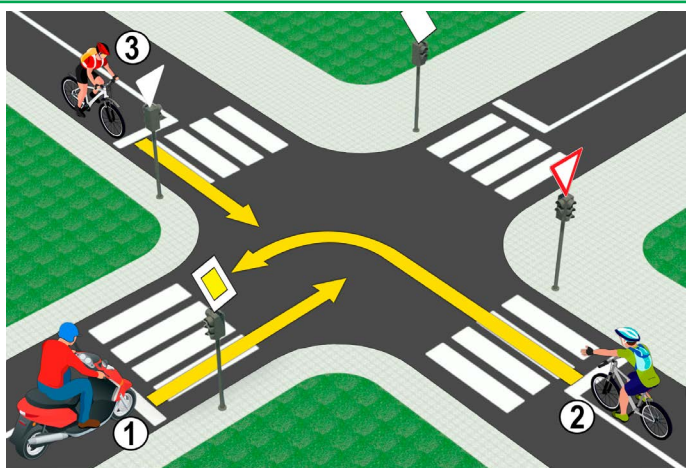



1. Prometna traka na slici označena je brojem:
- a) 1 .....
- b) 3 .....  3
- c) 5 .....

2. U situaciji na slici, razdjelna linija koja označava zabranu prelaska preko te linije i zabranu kretanja po toj liniji je linija između traka obilježenih brojevima:
- a) 4-5 .....
- b) 5-6 .....  3
- c) 6-7 .....



3. U situaciji na slici, vozač motocikla (1):
- a) dužan je propustiti biciklista (2) koji mu dolazi s desne strane .....
- b) dužan je propustiti oba vozača bicikla (2) i (3) .....  3
- c) ima prvenstvo prolaza kroz raskrižje .....

4. U danoj situaciji prvenstvo prolaska na raskrižju regulirano je:
- a) prometnim znakovima .....
- b) semaforima .....  3
- c) pravilima prometa .....



5. Vozač bicikla u situaciji na slici:
- a) dužan je usporiti i propustiti samo pješaka koji je već skoro prešao ulicu .....
- b) dužan je propustiti sve pješake na pješačkom prijelazu .....  3
- c) ima prvenstvo prolaza u odnosu na pješake .....

6. Vozač bicikla prilikom skretanja u situaciji na slici:
- a) dužan je odručiti desnu ruku i obavijesti sudionike u prometu o svojoj namjeri .....
- b) nije dužan odručiti ruku prilikom skretanja udesno .....  3
- c) dužan je odručiti samo lijevu ruku prilikom skretanja ulijevo .....

7. Prolaženje sudionika u prometu pored drugog sudionika u prometu koji dolazi iz suprotnog smjera, naziva se:
- a) obilaženje .....
- b) preticanje .....  3
- c) mimoilaženje .....

8. Izuzetno u pješačkoj zoni, zoni usporenog prometa, zoni „30“, zoni škole i nekategoriziranoj cesti, biciklom može upravljati i dijete s navršenih:
- a) 8 godina .....
- b) 9 godina .....  3
- c) 10 godina .....

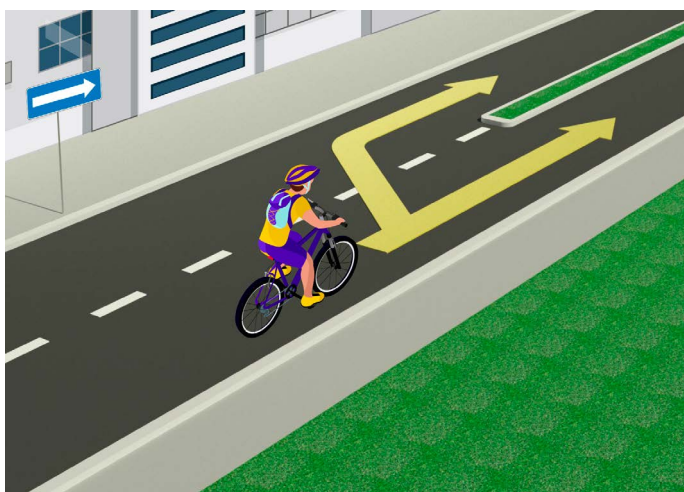


9. Vozač tramvaja u situaciji na slici:

- a) ima prvenstvo prolaza u odnosu na sva vozila u raskrižju
- b) dužan je propustiti samo putničko vozilo koje mu dolazi s desne strane .....  3
- c) dužan je propustiti oba vozila .....

10. U situaciji na slici je raskrižje na kojem se:

- a) ukrštaju glavna i sporedna cesta .....
- b) ukrštaju ceste iste važnosti .....  3
- c) spajaju pod oštrim kutom glavna i sporedna cesta .....



11. Vozač bicikla u situaciji na slici, smije obilaziti pješački otok:

- a) bilo s lijeve bilo s desne strane .....
- b) samo s desne strane .....  3
- c) samo s lijeve strane .....

12. Samostalno upravljanje biciklom po cesti dozvoljeno je osobi s napunjenih:

- a) 9 godina .....
- b) 12 godina .....  3
- c) 14 godina .....



13. Vozač crvenog putničkog automobila, u situaciji na slici, skretanje ulijevo vrši:

- a) na raskrižju na kojem mu je skretanje ulijevo zabranjeno
- b) propisno, iz odgovarajuće prometne trake .....  3
- c) nepropisno, iz prometne trake, iz koje mu to nije dozvoljeno .....

14. U situaciji na slici vozač motocikla koji skreće ulijevo:

- 1) ima prednost prolaza u odnosu na sva vozila u raskrižju
- 2) dužan je propustiti samo autobus .....  3
- 3) nalazi se na raskrižju na kojoj mu je skretanje ulijevo zabranjeno .....

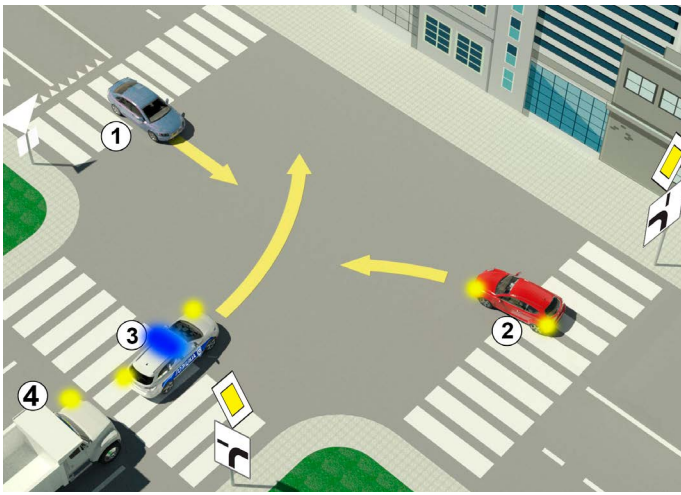


15. U situaciji na slici putnički automobil vrši preticanje motocikla:

- a) propisno .....
- b) nepropisno .....  3
- c) na mjestu na kome je preticanje zabranjeno .....

16. Vozaču lakog električnog vozila koji ima navršenih 16 godina, kretanje po kolovozu u situaciji na slici:

- a) nije definirano propisima .....
- b) dozvoljeno je .....  4
- c) zabranjeno je .....

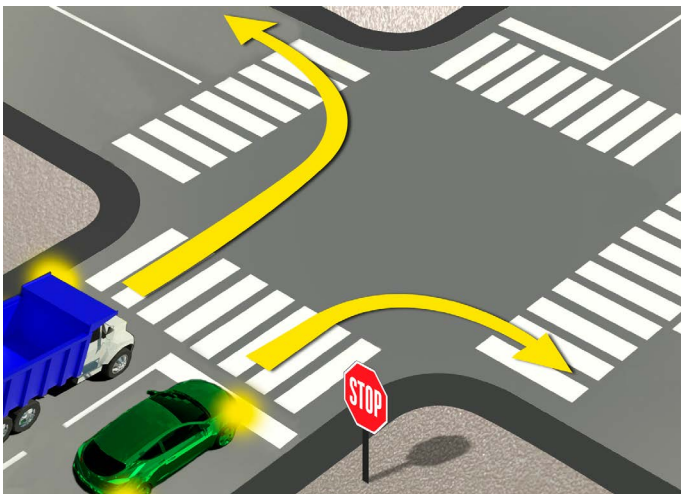


17. U situaciji na slici, redoslijed prolaska vozila kroz raskrižje je:

- a) 3, 4, 2, 1 .....
- b) 3, 2, 4, 1 .....  4
- c) 2, 3, 4, 1 .....

18. Dopunska ploča prikazana na slici, uz znak „cesta s prednošću prolaza“, označava:

- a) smjer kojim se vozila moraju kretati .....
- b) položaj ceste koja nema izlaz (slijepa cesta) .....  3
- c) pružanje ceste s prednošću prolaza .....

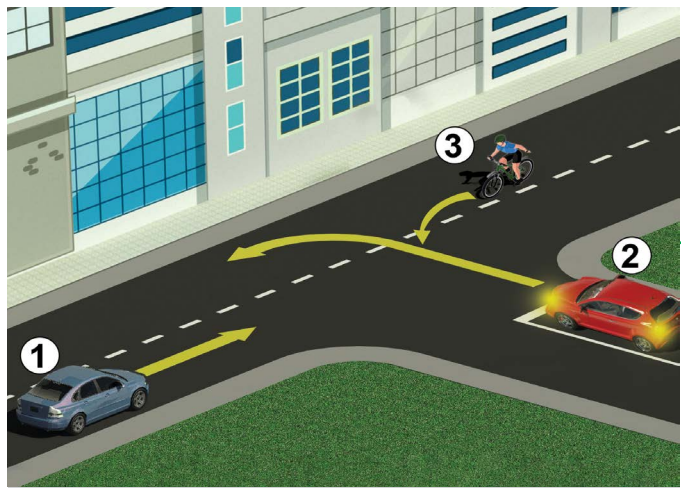


19. Vozač zelenog putničkog automobila, u situaciji na slici, prilikom sretanja udesno:

- a) dužan je zaustaviti se ispred linije zaustavljanja .....
- b) dužan je zaustaviti se samo ako ima pješaka na pješačkom prijelazu .....  3
- c) nije dužan zaustaviti se ispred linije zaustavljanja, budući da nema vozila na raskrižju .....

20. Vozač teretnog vozila, u situaciji prikazanoj na slici, kolovozom kreće se:

- a) propisno .....
- b) propisno, samo ako se prije skretanja zaustavio .....  3
- c) nepropisno .....



21. U situaciji prikazanoj na slici postupanje vozača regulirano je:

- a) pravilom prometa koje regulira prvenstvo prolaza .....
- b) postavljenom oznakom na kolovozu .....  3
- c) prometnim znakom .....

22. U raskrižju će kao drugi proći:

- a) vozač bicikla (3) .....
- b) crveni automobil (2) .....  3
- c) plavi automobil (1) .....



23. Vodoravno odručena ruka s dlanom otvorene šake usmjerena prema određenom vozilu znači da:

- a) svi vozači koji nailaze na raskrižje u obvezi su zaustaviti se .....
- b) je vozač u čijem smjeru se daje taj znak obavezan zaustaviti vozilo .....
- c) je vozač u čijem smjeru se daje taj znak obavezan smanjiti brzinu kretanja vozila .....  4

24. Raspored svjetla na semaforu, odozgor prema dolje je:

- a) žuto, zeleno, crveno .....
- b) zeleno, žuto, crveno .....  3
- c) crveno, žuto zeleno .....

