

Figyelmesen olvasd el, és jegyezd meg!

- A gyalogos a közlekedéshez a gyalogjárdát használja, vagy másik e célra fenntartott útfelületet.



- Lakott településen kívül, ahol nincs gyalogjárda vagy gyalogút, a gyalogos közlekedhet az úttesten, de ilyenkor köteles az úttest bal széléhez közel haladni a forgalommal (az úttesten közlekedő járművekkel) szemben.



- Ha az úttesten több gyalogos közlekedik, egymás mögött kötelesek haladni, kivéve azokat a személyeket, akik 7 évesnél fiatalabb gyermeket vezetnek, de az úttestet ők is csak az úttest szélétől számított 1 méter szélességben vehetik igénybe.


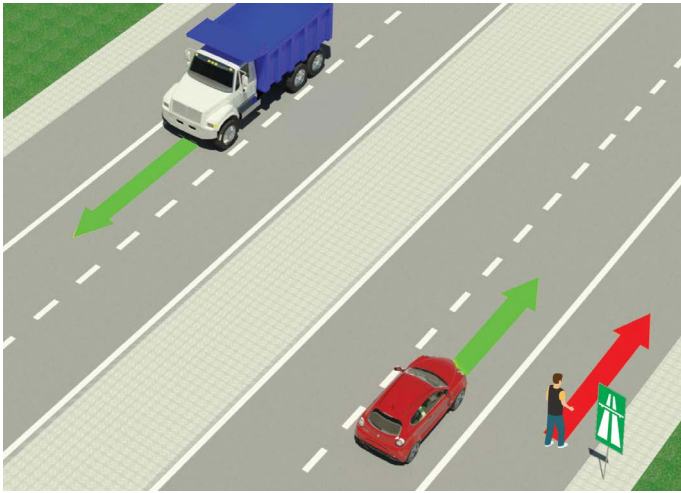


- A gyalogos köteles a legrövidebb úton, körültekintően átkelni az úttesten, a kijelölt átkelőhelyet használva.



- Azon az átkelőhelyen, amelyen a közlekedést közlekedési lámpa (villanyrendőr) szabályozza, a gyalogos köteles ennek utasításai szerint közlekedni.
- Ha a forgalmat közlekedési rendőr irányítja, akkor a gyalogosnak kötelessége az ő utasításait betartani.

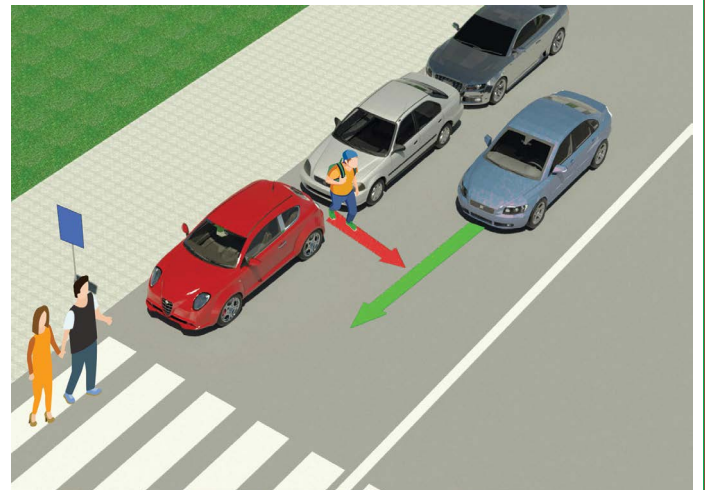
TILOS:



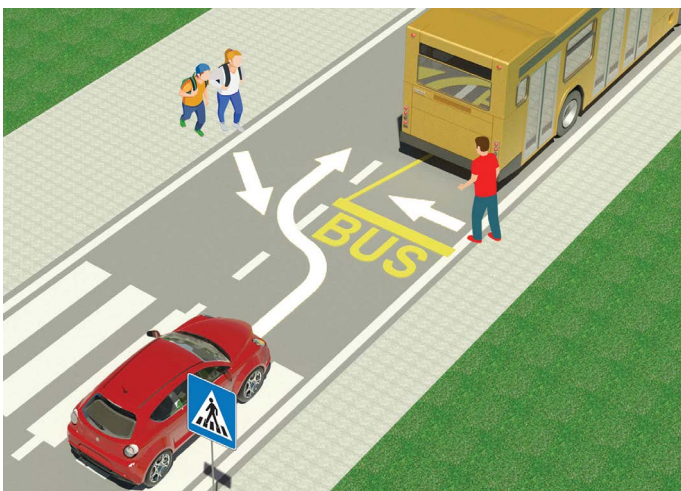
- a gyalogosforgalom, valamint a közlekedés mopeddel, könnyű triciklivel és négykerekű segédmotoros kerékpárral: autópályán és gépjármű forgalom céljára fenntartott úton.



- a 12 évnél fiatalabb gyermeknek az első ülésen ülni, még ha használja is a biztonsági övet



- rendkívül veszélyes átmenni az úttesten a leparkolt járművek között, a kijelölt gyalogos átkelőhelyen kívül



- igen veszélyes az úttesten való átkelés a buszmegállóban az utasok ki- és beszállására várakozó autóbusz mögött vagy előtt



- az úttesten való áthaladáskor mobiltelefon vagy fülhallgató használata




- tilos átkelni az úttesten a forgalomirányító jelzőlámpa piros jelzése vagy a forgalmat irányító rendőr testhelyzetével, kezével vagy más módon leadott tiltó jelzés ellenére

TESZT

- Olvasd el figyelmesen az utasítást! -

A tesztet úgy kell megoldani, hogy először megnézed a képet, elolvasod a kérdést, majd a megadott két választ is, és csak ezután jelölöd (a kis négyzetben) a szerinted helyes választ.




1. A képen látható helyzetben a két kerékpáros
- a) szabályosan közlekedik 2
- b) szabálytalanul közlekedik

2. A moped (motoros kerékpár) vagy motorkerékpár vezetője
- a) köteles bukósisakot viselni vezetés közben 2
- b) nem köteles bukósisakot viselni vezetés közben



3. A képen látható helyzetben a kerékpáros:
- a) szabályosan közlekedik 2
- b) szabálytalanul közlekedik

4. Ugyanazon a képen a gyalogosok
- a) járdán közlekednek 2
- b) kerékpárúton közlekednek



5. A gyalogos, ha kerékpárt tol, akkor közlekedik szabályosan, ha
- a) az útest bal széléhez közel halad a forgalommal szemben 2
- b) az útest jobb széléhez közel halad, ahogy a kép is mutatja

6. A képen látható helyzetben a gyalogos az útest jobb oldalán, annak széléhez közel
- a) szabálytalanul közlekedik 2
- b) szabályosan közlekedik



7. Amikor a közlekedési lámpa, amely a gyalogosforgalmat irányítja, a képen látható módon világít, a gyalogátkelőhelyen az áthaladás
- a) tilos 2
- b) engedélyezett

8. A gyalogosforgalmat irányító közlekedési lámpa egyik színe zöld, a másik pedig
- a) piros színű 2
- b) sárga színű



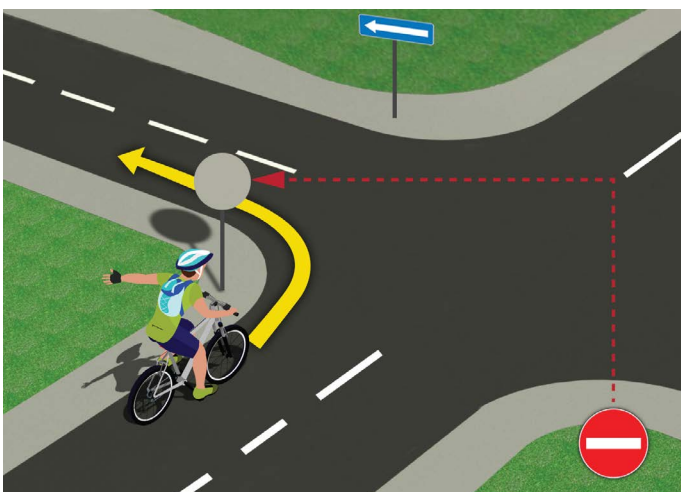
9. A képen látható helyzetben az útkereszteződésben áthaladási elsőbbséggel
- a) az 1-es számú kerékpáros rendelkezik ③
- b) a 2-es számú kerékpáros rendelkezik ③

10. Az adott helyzetben az áthaladási sorrendet
- a) közlekedési szabályok határozzák meg ②
- b) közlekedési jelek (táblák) határozzák meg ②



11. A gyalogosok a képen látható helyzetben
- a) áthaladási elsőbbséggel rendelkeznek a kék személyautóhoz viszonyítva ②
- b) el kell hogy engedjék a kék személyautót ②

12. Ugyanezen a képen a személyautó vezetője
- a) olyan úton halad, amely áthaladási elsőbbséggel rendelkező úttal kereszteződik ... ③
- b) olyan úton halad, amely áthaladási elsőbbséggel rendelkezik ③



13. A kerékpáros a képen látható helyzetben a balra kanyarodást
- a) szabályosan végzi ②
- b) szabálytalanul végzi ②

14. Közúton akkor vezethet gyerek kerékpárt, ha betöltötte
- a) 9. életévét ②
- b) 12. életévét ②

(Rajtszám, vezeték- és utónév)

(Megnevezés – osztály/iskola/csapat)

30 - Negatív = ÖSSZESEN

Pont Pont

BARÁTAINK!



Република Србија
МИНИСТАРСТВО ПРОСВЕТЕ, НАУКЕ
И ТЕХНОЛОШКОГ РАЗВОЈА



Република Србија
МИНИСТАРСТВО УНУТРАШЊИХ ПОСЛОВА

